



۳
شماره


بسته کمک به تحول آموزش و پرورش



آزمون

هشتم

آزمون نمره منفی دارد.



تاریخ: ۹۵/۹/۱۹ تعداد پرسش: ۸۵ زمان: ۹۵ دقیقه



1. Azar: Maryam, what does your mom do on ?

Maryam: She is a teacher; she teaches English.

- 1) weekdays 2) week 3) weekly 4) weekend

2. Mona: Grandmother, can you come to our house today?

Grandmother: I How about Friday?

- 1) sounds great 2) fine 3) can't make it 4) thanks

3. She wakes up before at 4:30.

- 1) sunrise 2) sunset 3) midnight 4) midday

4. I'm not good searching the Web.

- 1) out 2) over 3) on 4) at

5. Can you a good story?

- 1) do 2) ride 3) tell 4) take

6. A:

B: I can play tennis well.

- 1) Who can play tennis? 2) Can you play tennis?
3) When do you play tennis? 4) Are you good at playing tennis?

۷. کدام گزینه مربوط به تصویر داده شده می‌باشد؟

- 1) draw a picture
2) take photos
3) do a puzzle
4) study lessons



آموزش قرآن: درس ۳ تا انتهای درس ۵
پیام‌های آسمان: درس ۳ تا انتهای درس ۵

قرآن و پیام‌های آسمان (زمان: ۱۰ دقیقه)

۸. معنی کدام کلمه، در مقابل آن درست نوشته شده است؟

- (۱) عزیز: مهربان (۲) مُرسَلین: پیامبران (۳) فی: برای (۴) کَم: اندک

۹. کدام کلمه، فعل امر نیست؟

- (۱) اِتَّقُوا (۲) اَطِيعُوا (۳) اَطِيعُونَ (۴) تَتَّقُونَ



۱۰. معنی عبارت قرآنی «لَعَلَّهُمْ يَشْكُرُونَ» کدام است؟
 (۱) تا آن‌ها شکر کنند (۲) آن‌ها شکرگزار هستند (۳) تا شما شکر کنید (۴) شما شکرگزار هستید
۱۱. در عبارت «وَ أَدْخِلْنِي بِرَحْمَتِكَ فِي عِبَادِكَ الصَّالِحِينَ» حضرت سلیمان (ع)، از خداوند چه درخواستی می‌کند؟
 (۱) او را پیامبر قومی صالح قرار دهد. (۲) بندگان شایسته خود را هدایت کند.
 (۳) او را بنده‌ای شایسته قرار دهد. (۴) افراد نیکوکار قوم او را نجات دهد.
۱۲. معنی کلمه «تَتْلُو» در کدام گزینه درست آمده است؟
 (۱) قرار می‌دهیم (۲) می‌خواهیم (۳) می‌خوانیم (۴) می‌دانیم
۱۳. وقتی در جهنم، دوزخیان به سراغ شیطان می‌روند و می‌گویند «تو بودی که همه ما را گمراه کردی و به جهنم کشاندی» شیطان به آن‌ها چه پاسخی می‌دهد؟
 (۱) من عذاب خودم را نیز نمی‌توانم تحمل کنم. (۲) شما باید عذاب من را هم به دوش بکشید.
 (۳) ای کاش مشتی خاک بودم و امروز چنین حالی نداشتم. (۴) شما خودتان وعده‌های راست خداوند را کنار گذاشتید.
۱۴. پیامبر خدا (ص)، را به حضرت علی (ع) می‌آموخت تا پس از رحلت ایشان، مردم بتوانند با کمک از آموزه‌های قرآن بهره‌مند گردند و بر مشکلات خود، غلبه کنند.
 (۱) چگونگی ارتباط با فرشته وحی، خلفای مسلمانان پس از ایشان
 (۲) چگونگی ارتباط با فرشته وحی، امیرمؤمنان و امامان پس از ایشان
 (۳) اسرار و نکات عمیق قرآن، خلفای مسلمانان پس از ایشان
 (۴) اسرار و نکات عمیق قرآن، امیرمؤمنان و امامان پس از ایشان
۱۵. کدام پیام، از حدیث ثقلین دریافت نمی‌شود؟
 (۱) تنها راه رسیدن به سعادت، پناه بردن به قرآن و اهل بیت پیامبر است.
 (۲) رها کردن هر یک از دو امانت الهی رسول خدا، سرگردانی به همراه خواهد داشت.
 (۳) قرآن و اهل بیت، در کنار چشمه کوثر، به پیامبر ملحق می‌شوند.
 (۴) تا هنگامی که قرآن در میان مسلمانان هست، نباید به هیچ مرجع دیگری رجوع کرد.
۱۶. آیه «يَا أَيُّهَا الرَّسُولُ بَلِّغْ مَا أُنزِلَ إِلَيْكَ مِنْ رَبِّكَ وَإِنْ لَمْ تَفْعَلْ فَمَا بَلَّغْتَ رِسَالَتَهُ» بر پیامبر نازل شد و محتوای آن، اعلام است.
- (۱) هنگام حج در مکه، جانشینی حضرت علی (ع)
 (۲) پس از حج در غدیر خم، جانشینی حضرت علی (ع)
 (۳) هنگام حج در مکه، قیام علیه کفار مکه
 (۴) پس از حج در غدیر خم، قیام علیه کفار مکه



۱۷. به فرمایش امام صادق (ع) منظور از «نعیم» در آیه «ثُمَّ لَتَسْتَلُنَّ يَوْمَئِذٍ عَنِ النَّعِيمِ» چیست؟

- (۱) طعامی که می‌خوریم
- (۲) سلامتی
- (۳) پیامبر اکرم و اهل بیت ایشان
- (۴) پیامبر و اصحاب او

فصل‌های ۲، ۳ و فصل ۴ تا ابتدای «معادله»

ریاضی (زمان: ۲۵ دقیقه)

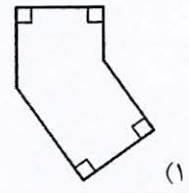


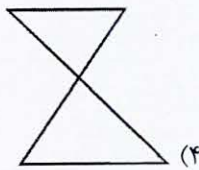
۱۸. چند تا از عددهای مجموعه {۱، ۲۳، ۳۳، ۴۳، ۶۳، ۱۱۳} مرکب هستند؟

- (۱) یکی
- (۲) دو تا
- (۳) سه تا
- (۴) چهار تا

۱۹. در غربال اعداد بین ۱ تا ۲۰۰ اعداد ۱۳۵، ۱۸۷، ۱۴۷، ۱۹۴ خط خورده‌اند. ترتیب خط خوردن این اعداد کدام است؟

- (۱) ابتدا ۱۳۵ سپس به ترتیب ۱۴۷ و ۱۸۷ و در نهایت ۱۹۴ خط می‌خورد.
- (۲) ابتدا ۱۹۴ سپس به ترتیب ۱۳۵ و ۱۸۷ و در نهایت ۱۴۷ خط می‌خورد.
- (۳) ابتدا ۱۴۷ سپس به ترتیب ۱۹۴ و ۱۳۵ و در نهایت ۱۸۷ خط می‌خورد.
- (۴) ابتدا ۱۹۴ سپس به ترتیب ۱۳۵ و ۱۴۷ و در نهایت ۱۸۷ خط می‌خورد.

۲۰. کدام یک از شکل‌های زیر چندضلعی است؟



۲۱. کدام یک از عبارات‌های زیر را می‌توان در جای خالی قرار داد؟


$$\left. \begin{array}{l} a \parallel b \\ b \parallel c \\ e \perp b \end{array} \right\} \Rightarrow \dots$$

$e \parallel c$ (۴)

$e \perp a$ (۳)

$a \perp c$ (۲)

$e \parallel a$ (۱)





۲۲. اگر محیط یک لوزی $a+5$ و طول هر ضلع آن ۱۰ باشد، مقدار a کدام است؟

- (۱) ۳۰ (۲) ۳۵ (۳) ۴۵ (۴) ۴۰

۲۳. کدام یک از عبارات‌های زیر درست است؟

- الف) حاصل ضرب دو عبارت جبری دو جمله‌ای در یک دیگر، همواره یک چهار جمله‌ای است.
 ب) هفت برابر $(3x^2y)(-2x)$ برابر است با $(-42x^2y)$.
 (۱) فقط الف (۲) فقط ب (۳) هر دو (۴) هیچ کدام

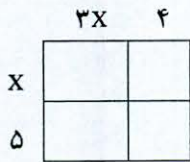
۲۴. در یک دوزنقه قائم‌الزاویه، اندازه هر یک از زاویه‌های غیرقائمه $8x - 2^\circ$ و $3x + 35^\circ$ می‌باشد، کوچک‌ترین زاویه این دوزنقه چند درجه است؟

- (۱) 9° (۲) 10° (۳) 8° (۴) 7°

۲۵. با کدام چندضلعی‌های زیر می‌توان به‌طور هم‌زمان هم‌زمان کاشی کاری کرد؟

- (۱) مربع و هشت‌ضلعی منتظم
 (۲) مثلث متساوی‌الاضلاع و دوازده ضلعی منتظم
 (۳) پنج‌ضلعی منتظم و لوزی
 (۴) هر سه گزینه

۲۶. مساحت شکل زیر بر حسب متغیر x کدام است؟



- (۱) $3x^2 + 19x + 20$
 (۲) $22x + 20$
 (۳) $3x^2 + 19x + 9$
 (۴) $3x^2 + 20$

۲۷. ساده شده عبارت $\frac{(6K-4L)^8}{2(3K-2L)^8}$ کدام است؟

- (۱) $\frac{1}{2}$ (۲) ۱۲۸ (۳) $\frac{1}{128}$ (۴) ۲

۲۸. نسبت اندازه زاویه خارجی به داخلی یک چندضلعی منتظم $\frac{1}{11}$ است تعداد اضلاع این چندضلعی منتظم کدام است؟

- (۱) ۲۰ (۲) ۲۴ (۳) ۳۰ (۴) ۳۶



۲۹. کدام یک از خاصیت‌های زیر، خاصیت مشترک لوزی و مربع است ولی تفاوت لوزی با مستطیل را بیان می‌کند؟

- (۱) قطرهای یک‌دیگر را نصف می‌کنند.
- (۲) قطرهای بر هم عمودند.
- (۳) قطرهای با هم مساویند.
- (۴) هر ۴ زاویه با هم برابرند.

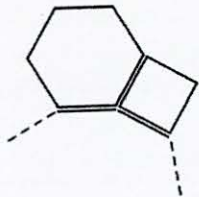
۳۰. اگر a عددی طبیعی و بزرگ‌تر از ۱۰۰ باشد کدام گزینه درست است؟

- (۱) $(a, a+1) = 1$
- (۲) $(a, a-1) = 1$
- (۳) $[a, a+1] = a(a+1)$
- (۴) همه موارد

۳۱. اختلاف یک عدد دو رقمی و مقلوب آن بر کدام یک از عددهای زیر بخش‌پذیر است؟

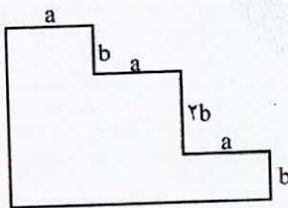
- (۱) ۱، ۳ و ۹
- (۲) ۱، ۲ و ۹
- (۳) فقط ۱ و ۳
- (۴) ۳، ۹ و ۱۸

۳۲. مهسا با سه نوع چندضلعی منتظم کاشی کاری کرده است. او کدام چندضلعی منتظم را کنار مربع و شش‌ضلعی منتظم قرار داده است؟



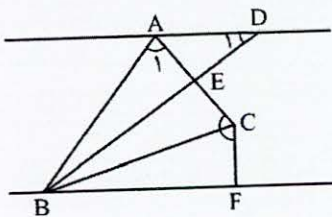
- (۱) ۸ ضلعی منتظم
- (۲) ۱۰ ضلعی منتظم
- (۳) ۱۲ ضلعی منتظم
- (۴) ۱۵ ضلعی منتظم

۳۳. محیط شکل زیر کدام است؟



- (۱) $4b + 6a$
- (۲) $8b + 2a$
- (۳) $4b + 6a$
- (۴) $6a + 8b$

۳۴. در شکل زیر BD خط تقارن مثلث ABC و BC خط تقارن چهارضلعی $CFBE$ است و $AD \parallel BF$ می‌باشد. اگر



$\hat{A}_1 = 7^\circ$ باشد در این صورت زاویه D_1 چند درجه است؟

- (۱) 2°
- (۲) 3°
- (۳) 4°
- (۴) 5°



۳۵. چند عدد طبیعی ۲ رقمی وجود دارد که با ۱۲۱ شمارنده مشترک دارند ولی نسبت به ۱۸ اول هستند؟

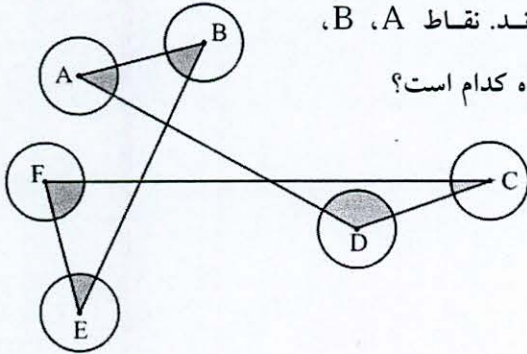
۴ (۴)

۳ (۳)

۲ (۲)

۱ (۱)

۳۶. در شکل زیر همه دایره‌ها با هم برابرند و هر کدام مساحتی برابر ۱۴ دارند. نقاط A، B، C، D، E و F مرکز این دایره‌ها هستند. اندازه مساحت قسمت رنگ شده کدام است؟



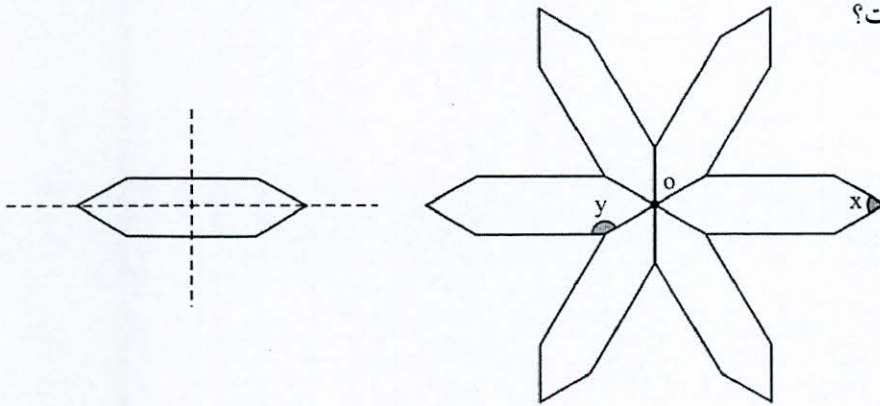
۷ (۱)

۱۴ (۲)

۲۱ (۳)

۲۸ (۴)

۳۷. در شکل زیر محورهای تقارن یک شش ضلعی رسم شده است. با استفاده از این نوع شش ضلعی کاشی کاری به شکل زیر انجام می‌دهیم حاصل $2x + y$ کدام است؟



۱۵° (۱)

۲۱° (۲)

۲۵° (۳)

۲۷° (۴)

درس ۴ تا انتهای درس ۹

مطالعات اجتماعی (زمان: ۱۰ دقیقه)

۳۸. کدام یک از موارد زیر، از وظایف و اختیارات رئیس‌جمهور نیست؟

(۲) سؤال از عملکرد رئیس‌مجلس

(۱) امضای استوارنامه سفیر ایران در برزیل

(۴) مدیریت جلسه هیئت وزیران

(۳) اعطای نشان ملی فرهنگ و هنر به یکی از هنرمندان

محاسبات



۳۹. مهم‌ترین منابع درآمدهای دولت در ایران کدام است؟

- (۱) صادرات نفت و گاز و مالیات
- (۲) صادرات نفت و گاز و جریمه‌های رانندگی
- (۳) مالیات و پرداخت قبوض آب و برق و گاز
- (۴) سرمایه‌گذاری در صنایع بزرگ و صادرات غیرنفتی

۴۰. وقتی دیگری از دست ما عصبانی است، کدام یک از موارد زیر درست نیست؟

- (۱) پرسش از طرف مقابل درباره علت عصبانیت
- (۲) توضیح دادن بی‌گناهی خویش
- (۳) ترک کردن موقعیت در موارد خطر
- (۴) صحبت کردن تا قانع شدن طرف مقابل

۴۱. کدام یک از موارد زیر از اثرات منفی رسانه‌های ارتباط جمعی نیست؟

- (۱) تشویق مصرف‌گرایی در آگهی‌های بازرگانی
- (۲) تحت تأثیر قرارگرفتن نوجوانان از صحنه‌های خشونت‌آمیز
- (۳) کم‌شدن گفت‌وگو بین اعضای خانواده
- (۴) زیاد شدن دید و بازدید اقوام و دوستان

۴۲. کدام یک از وظایف قوه قضائیه نیست؟

- (۱) برخورد و مجازات متخلفان
- (۲) انتخاب رئیس قوه قضائیه
- (۳) برقراری عدالت اجتماعی
- (۴) حل اختلافات مردم

۴۳. غصب عنوان چه جرمی است؟

- (۱) نوعی افترا است.
- (۲) نوعی قدرت‌نمایی است.
- (۳) نوعی دروغ و کلاهبرداری است.
- (۴) نوعی تصرف ملک بدون رضایت صاحبش است.

۴۴. بر اساس تعریف، وسایل ارتباط جمعی ابزارهایی است که به وسیله آن‌ها می‌توان با گروه‌هایی از مردم در حد وسیع و به‌طور

یکسان و هم‌زمان ارتباط برقرار کرد. کدام یک از رسانه‌های زیر، وسیله ارتباطی جمعی نیست؟

- (۱) کتاب
- (۲) تلویزیون
- (۳) روزنامه
- (۴) شبکه‌های اجتماعی

۴۵. کدام وزارتخانه، خدمات پستی، رادیویی و تلویزیونی به مردم ارائه می‌کند؟

- (۱) صدا و سیما
- (۲) پست و مخابرات
- (۳) ارتباطات و فناوری اطلاعات
- (۴) اطلاعات و فناوری

۴۶. کدام یک جزو خدمات دولت الکترونیک نیست؟

- (۱) آگاهی از میزان مالیات تعیین شده
- (۲) پرداخت قبض آب
- (۳) پایش فرودگاه‌ها
- (۴) صدور گواهینامه رانندگی



۴۷. برای کم کردن تأثیرات منفی رسانه‌ها، بهترین راه کار چیست؟

- (۱) وارد شدن به فضای مجازی بعد از دوران دبیرستان
- (۲) تجزیه و تحلیل پیام‌های رسانه‌ای
- (۳) کم کردن ساعات مشاهده تلویزیون و بازی‌های رایانه‌ای
- (۴) استفاده از رسانه به همراه بزرگ‌ترها

درس ۲ تا انتهای درس ۴

عربی (زمان: ۸ دقیقه)

۴۸. ترجمه کدام عبارت درست است؟

- (۱) «وَمَنْ يَشْكُرْ فَإِنَّمَا يَشْكُرُ لِنَفْسِهِ»: هر کس سپاسگزاری کرد به سود خود سپاسگزاری کرده است.
- (۲) «وَوَجَعْنَا مِنَ الْمَاءِ كُلَّ شَيْءٍ حَيًّا»: و همه چیزهای زنده را از آب پدید آوردیم.
- (۳) «هل أقدِرُ على العبورِ؟»: آیا علی توانست عبور کند؟
- (۴) «ما هو رأيك؟»: نظرت چیست؟

۴۹. معنای کدام واژه مشخص شده نادرست است؟

- (۱) درس الیوم حول المهنة: شغل‌ها
- (۲) سوف أصيرُ مهندساً زراعياً: خواهم شد
- (۳) أنت ستلعبُ في المدرسة: بازی خواهد کرد
- (۴) أنت لاعبةٌ ممتازةٌ في كرة القدم: فوتبال

۵۰. کلمه و توضیح داده شده در کدام گزینه نادرست است؟

- (۱) الشرطي: يحفظُ الأمنَ في البلاد
- (۲) اليد: بلاءُ الانسانِ فيه
- (۳) الذهب: قيمتهُ غالبيةٌ جداً
- (۴) الأمهات: الجنةُ تحتَ أقدامهنَّ

۵۱. مترادف و متضاد کلمات در کدام گزینه درست نیست؟

- (۱) أمس ≠ غداً
- (۲) والدة ≠ أم
- (۳) عَرَفَ = فَهِمَ
- (۴) سهل = بسيط

۵۲. نگارش کدام گزینه درست است؟

- (۱) سوف نرجعُ إلى بلادی قبلَ یومین.
- (۲) ستذهبُ إلى البستانِ معَ أخیه أمس.
- (۳) هل تعرفینَ ذلكَ المدرسَ یا أخی؟
- (۴) یا طیبیةُ اتفحصینَ المرضى بدقةٍ؟

۵۳. جمع مکسر در کدام گزینه درست است؟

- (۱) أخ، إخوة
- (۲) خطیئة، أخطاء
- (۳) رسالة، رُسل
- (۴) مریض، أمراض

۵۴. فعل مضارع مناسب برای جای خالی عبارت «تلك المرأة ... أشرتها في البيت.» کدام گزینه است؟

- (۱) تَنفَعِينِ
- (۲) أَنْفَعُ
- (۳) تَنفَعُ
- (۴) تَنفَعُ

۵۵. در کدام گزینه ترجمه هر دو فعل نادرست است؟

- (۱) طَرَقْتُ: کوبید / سَوَّفَ تَطَرَّقِينَ: می‌کوبی
- (۲) شَرِينَا: نوشیدیم / تَشْرَبُ: می‌نوشیم
- (۳) سَأَلْتُمْ: پرسیدید / أَسَأَلُ: می‌پرسد
- (۴) قَدَّرْتُ: توانست / تَقْدِرُ: می‌توانم



۵۶. در تبدیل اتم یک عنصر به یون مثبت

- (۱) بار هسته آن افزایش می‌یابد.
 (۲) بار هسته آن تغییر نمی‌کند.
 (۳) بار هسته آن کاهش می‌یابد.
 (۴) تعدادی الکترون به آن اضافه می‌شود.

۵۷. شمار نوترون‌های یک عنصر برابر ۱۴ و شمار الکترون‌های یون (+۳) آن برابر ۱۰ است. عدد اتمی و عدد جرمی آن به ترتیب از راست به چپ کدام است؟

- (۱) ۲۷، ۱۴ (۲) ۲۷، ۱۳ (۳) ۱۴، ۱۳ (۴) ۲۷ و ۱۳

۵۸. مشخصات عنصر X در جدول زیر آورده شده است، کدام نماد شیمیایی برای این عنصر درست است؟

نماد فرضی	تعداد لایه الکترونی	تعداد الکترون لایه آخر	تعداد ذره‌های خنثی
X	۲	۵	۸

- (۱) ${}_{15}^{27}\text{X}$ (۲) ${}_{13}^{27}\text{X}$ (۳) ${}_{14}^{13}\text{X}$ (۴) ${}_{13}^{27}\text{X}$

۵۹. در بافت عصبی، نورون‌ها سلول‌های پشتیبان

- (۱) همانند، توانایی ایجاد جریان عصبی را دارند.
 (۲) برخلاف، دارای هسته و اندامک هستند.
 (۳) همانند، هسته و اندامک ندارند.
 (۴) برخلاف، پیام عصبی را به سلول‌های دیگر انتقال می‌دهند.

۶۰. سلول‌های عصبی از چه طریقی با نورون‌ها و سلول‌های دیگر در ارتباط‌اند؟

- (۱) انتهای دندریت
 (۲) جسم سلولی
 (۳) انتهای آکسون
 (۴) تارهای عصبی

۶۱. تعداد گیرنده‌های که باعث دید در چشم می‌شوند، بیش‌تر است.

- (۱) استوانه‌ای، سیاه و سفید
 (۲) استوانه‌ای، رنگی
 (۳) مخروطی، سیاه و سفید
 (۴) مخروطی، رنگی

۶۲. به ترتیب کدام یک از بخش‌های چشم، شفاف و کدام یک دارای گیرنده‌های نوری هستند؟

- (۱) شبکیه، قرنیه
 (۲) قرنیه، صلبیه
 (۳) زجاجیه، قرنیه
 (۴) قرنیه، شبکیه



۶۳. وجود تنوع در کدام مورد، باعث می شود بتوانیم بوهای مختلف را احساس و از هم تشخیص دهیم؟

- (۱) سلول های عصبی در بخش پس سری قشر مخ
 (۲) اعصاب حسی بویایی به مغز
 (۳) گیرنده ها در بافت پوششی بینی
 (۴) مولکول های بودار به حالت گاز در اطراف مواد بودار

۶۴. کدام یک از موارد زیر از وظایف استخوان ها به شمار نمی آید؟

- (۱) تولید سلول های خونی (۲) ذخیره کلسیم
 (۳) ایجاد حرکت (۴) حفاظت از اندام ها

۶۵. همه موارد زیر در مورد غضروف درست است به جز ...

- (۱) در محل اتصال استخوان ها وجود دارد.
 (۲) نرم و قابل انعطاف است و نوعی بافت پیوندی است.
 (۳) مانع اصطکاک در مفاصل می شود.
 (۴) محل ذخیره مواد معدنی و تولید سلول های خونی است.

۶۶. با توجه به انواع مفصل های بدن، کدام گزینه درست نیست؟

- (۱) بیش تر استخوان ها در محل مفصل حرکت می کنند.
 (۲) مفصل موجود در ستون مهره ها از انواع مفصل های نیمه متحرک محسوب می شود.
 (۳) مفصل مربوط به دنده ها، حرکت محدودی دارد.
 (۴) در محل مفصل ها بافت پوششی محکمی به نام رباط وجود دارد.

۶۷. فردی دچار درد شدید و مزمن در ناحیه شکمی شده و پزشک بیماری او را کم کاری و ضعف معده تشخیص داده است، زیرا

ماهیه های معده او که از نوع هستند، عمل هضم مکانیکی غذا را به درستی انجام نمی دهند. سلول های این ماهیچه به رنگ هستند و به درستی تحریک نمی شوند.

- (۱) صاف، سفید- صورتی (۲) صاف، قرمز
 (۳) مخطط، سفید- صورتی (۴) مخطط، قرمز

۶۸. در گزینه های زیر کدام یک عمل متقابل دارند؟

- (۱) ماهیچه های مسئول باز و بسته شدن مردمک
 (۲) ماهیچه های دیواره معده و روده
 (۳) ماهیچه های چهارسر و سه سر ران
 (۴) ماهیچه های دیواره رگ ها و قلب

۶۹. سلول های حساس به صدا به شکل در بخش از گوش داخلی مشاهده می شوند.

- (۱) مژه دار، حلزونی (۲) مخروطی، مجاری نیم دایره (۳) مژه دار، مجاری نیم دایره (۴) مخروطی، حلزونی

۷۰. کدام یک موجب محدودیت حرکتی استخوان ها در یک مفصل می شود؟

- (۱) رباط (۲) مایع مفصلی (۳) زردپی (۴) غضروف



۷۱. معنی کدام واژه درست نیست؟

- (۱) نغز: نیکو
(۲) بوریا: حصیر
(۳) ماهیت: انسانیت
(۴) بصر: چشم

۷۲. بن مضارع در کدام گزینه نادرست آمده است؟

- (۱) خفتن: خواب
(۲) تاختن: تاز
(۳) نگریستن: نگر
(۴) افراختن: افروز

۷۳. در بیت: «برق از شوق که می خندد بدین سان قاه قاه؟ / ابر از هجر که می گرید بدین سان زار زار» کدام آرایه به کار نرفته؟

- (۱) تضاد
(۲) تشخیص
(۳) واج آرابی
(۴) تشبیه

۷۴. در عبارت زیر چند غلط املائی به کار رفته؟

«کشور ما همواره سرزمین سپند فرّ و فروغ و فرزانی و فرهیختگی است این خواستگاه بخردان، کشور یلان پر دل سرزمینی است که بدان می نازیم و سر از همگنان بر می افرازیم.»

- (۱) دو
(۲) یک
(۳) سه
(۴) چهار

۷۵. در کدام گزینه فقط دو جزء اصلی از اجزای جمله به کار رفته؟ (کدام جمله، دوجزئی است؟)

- (۱) به کشورم، ایران، می بالم
(۲) دیروز در کلاس درس کسی حضور نداشت
(۳) قدر عمر عزیز را بدانید
(۴) آسمان شب دیدنی است.

۷۶. در کدام بیت، جابه جایی موصوف و صفت وجود ندارد؟

- (۱) خروشید کای فرّخ اسفندیار
(۲) بفرمود تا زین بر اسب سیاه
(۳) گران مایه فرزند او پیش اوی
(۴) بگفت او آن من شد زو مکن یاد
هماوردت آمد، بر آرای کار
نهادند و بردند نزدیک شاه
از ایوان برون شد خروشان به کوی
بگفت این، کی کند بی چاره فرهاد

۷۷. رابطه کدام گزینه با بقیه متفاوت است؟

- (۱) زشتی و پلشتی
(۲) گرد و پهلوان
(۳) نژاده و اصیل
(۴) درازنا و تنگنا



۷۸. در کدام بیت، مفعول بیش تری به کار رفته است؟

- | | |
|---------------------------------|----------------------------|
| (۱) دید مجنون را یکی صحرا نورد | در میان بادیه بنشسته فرد |
| (۲) گفت شرح حسن لیلی می دهم | خاطر خود را تسلی می دهم |
| (۳) می نویسم نامش اول وز قفا | می نگارم نامه عشق و وفا |
| (۴) ساخته بر ریگ، ز انگشتان قلم | می زند حرفی به دست خود رقم |

۷۹. بیت: «آنچه در علم پیش می باید / دانش ذات خویش می باید» به کدام یک از مهارت های زندگی اشاره دارد؟

- | | |
|----------------|----------------|
| (۱) خودآگاهی | (۲) دانش آموزی |
| (۳) تصمیم گیری | (۴) تفکر خلاق |

۸۰. حرف «را» در کدام گزینه با بقیه متفاوت است؟

- | | |
|-------------------------|-----------------------------------|
| (۱) تو را با او چه کار؟ | (۲) تو را پدری است مهربان و دلسوز |
| (۳) خدایا، مرا بیاموز | (۴) طلب کنید که مرا با او کار است |

۸۱. کدام یک از ترکیبات زیر اضافه تشبیهی است؟

- | | |
|----------------|---------------|
| (۱) راز آفرینش | (۲) دست طبیعت |
| (۳) چشم دل | (۴) صفحه هستی |

۸۲. در کدام بیت تشبیه وجود دارد؟

- | | |
|-----------------------------------|-------------------------------|
| (۱) متاعی که من رایگان دادم از کف | تو گر می توانی، مده رایگانی |
| (۲) از آن بُرد گنج مرا دزد گیتی | که در خواب بودم گه پاسبانی |
| (۳) به نام خدایی که جان آفرید | سخن گفتن اندر زبان آفرید |
| (۴) آن خدا، بی رحم بود و خشمگین | خانه اش در آسمان، دور از زمین |

۸۳. کدام گزینه بر اساس الگوی (نهاد+ مفعول+ متمم+ فعل) ساخته شده است؟

- | | |
|--------------------------------------|--|
| (۱) از گناه بپرهیزید. | (۲) این داستان ها را از شاهنامه انتخاب کردم. |
| (۳) گوسفندان در دشت سرگرم چرا بودند. | (۴) فرمانروایی فرزندان خود را نصیحت کرد. |



۸۴. کدام دسته از کلمه‌های زیر با هم، هم‌خانواده نیستند؟

- (۱) ترحیم، رحمت، رحمان
 (۲) غنی، غنایم، اغنیا
 (۳) شاهد، مشاهده، شهادت
 (۴) کریم، تکریم، کرامت

۸۵. کدام گزینه نادرست است؟

- (۱) کتاب جامع التواریخ در قرن هفتم از خواجه رشیدالدین فضل‌الله می‌باشد.
 (۲) پریشان از قآنی شیرازی است که از گلستان تقلید شده است.
 (۳) بین واژه‌ها، فاصله معنی وجود دارد که به آن فاصله میان واژه‌ای می‌گویند.
 (۴) اسم و فعل، فقط جایگاه خودشان را دارند و نقش‌های مختلفی را نمی‌پذیرند.

داوطلب کرامس

لطفاً شماره‌ی داوطلبی خود را به خاطر بسپارید. ساعتی پس از
 برگزاری آزمون می‌توانید با وارد کردن شماره‌ی داوطلبی در سایت
www.mobtakeran.com کارنامه‌ی خود را مشاهده کنید.

